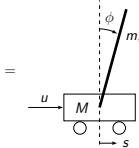


Segway, a.k.a. pendolo su carrello



ϕ = posizione angolare pendolo
 s = posizione carrello
 M = massa carrello
 m = massa pendolo
 l = distanza dal baricentro pendolo a cerniera
 J = momento inerzia pendolo rispetto al baricentro
 u = forza esterna

G. Baggio

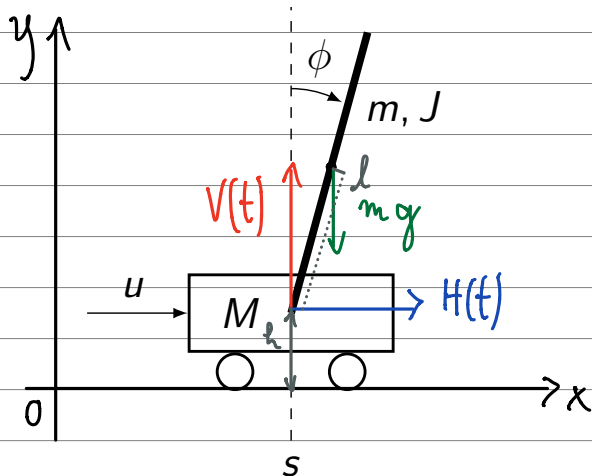
Lez. 24: Eserciziazione Matlab

16 Aprile 2021

$$x_1 = \phi, \quad x_2 = \dot{\phi}$$

u = ingresso = forza esterna applicata al carrello

$y = \phi$ | Assunzione: non ci sono attriti



$V(t)$ = forza esercitata dal carrello sul pendolo lungo l'asse y

$H(t)$ = forza esercitata dal carrello sul pendolo lungo l'asse x

Moto del baricentro del pendolo:

$$\text{asse } x: \quad m \frac{d^2}{dt^2} (s(t) + l \sin \phi) = H(t) \quad (1)$$

$$\text{asse } y: \quad m \frac{d^2}{dt^2} (h + l \cos \phi) = V(t) - mg \quad (2)$$

Moto di rotazione del pendolo rispetto al baricentro:

$$J \frac{d^2 \phi}{dt^2} = V(t) l \sin \phi - H(t) l \cos \phi \quad (3)$$

Da (1):

$$H(t) = m \frac{d}{dt} (\dot{s} + l \cos \phi \dot{\phi}) = m (\ddot{s} - l \sin \phi \dot{\phi}^2 + l \cos \phi \ddot{\phi}) \quad (1')$$

Da (2):

$$V(t) - mg = m \frac{d}{dt} (-l \sin \phi \dot{\phi}) = m (-l \cos \phi \dot{\phi}^2 - l \sin \phi \ddot{\phi}) \quad (2')$$

Usiamo (1') + (2') in (3):

$$\begin{aligned} J \ddot{\phi} &= l \sin \phi (mg - ml \cos \phi \dot{\phi}^2 - ml \sin \phi \ddot{\phi}) + \\ &\quad - l \cos \phi (m \ddot{s} - ml \sin \phi \dot{\phi}^2 + ml \cos \phi \ddot{\phi}) \\ &= mgl \sin \phi - \cancel{ml^2 \sin \phi \cos \phi \dot{\phi}^2} - ml^2 \sin^2 \phi \ddot{\phi} \\ &\quad - ml \cos \phi \ddot{s} + \cancel{ml^2 \sin \phi \cos \phi \dot{\phi}^2} - ml^2 \cos^2 \phi \ddot{\phi} \\ &= mgl \sin \phi - ml \cos \phi \ddot{s} - ml^2 \ddot{\phi} (\overbrace{\sin^2 \phi + \cos^2 \phi}^1) \end{aligned}$$

$$\Rightarrow (J + ml^2) \ddot{\phi} = mgl \sin \phi - ml \cos \phi \ddot{s}$$

$$\Rightarrow \ddot{\phi} = \frac{mgl}{J + ml^2} \sin \phi - \frac{ml}{J + ml^2} \cos \phi \ddot{s} \quad (3')$$

Assumiamo che $M \gg m$:

Moto del carrello:

$$M \ddot{s} = u - H(t) \Rightarrow M \ddot{s} = u \quad (4)$$

↑
reazione del pendolo sul carrello (proporzionale a m)

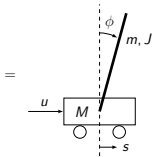
Uniamo (4) in (3'):

$$\ddot{\phi} = \frac{mgl}{J + ml^2} \sin \phi - \frac{ml}{M(J + ml^2)} \cos \phi u \quad l' \triangleq \frac{J + ml^2}{ml}$$

Sistema in spazio di stato: $x_1 = \phi$, $x_2 = \dot{\phi}$

$$\begin{cases} \dot{x}_1 = \dot{\phi} = x_2 \\ \dot{x}_2 = \ddot{\phi} = \frac{g}{l'} \sin \phi - \frac{1}{Ml'} \cos \phi u = \frac{g}{l'} \sin x_1 - \frac{1}{Ml'} \cos x_1 \cdot u \\ y = \phi = x_1 \end{cases}$$

Segway linearizzato attorno a $\bar{x} = (0, 0)$



ϕ = posizione angolare pendolo
 s = posizione carrello
 M = massa carrello
 m = massa pendolo
 l = distanza dal baricentro pendolo a cerniera
 J = momento inerzia pendolo rispetto al baricentro
 u = forza esterna

G. Baggio

Lez. 24: Esercitazione Matlab

18 Aprile 2021

$$\Sigma: \begin{cases} \dot{x}_1 = \dot{\phi} = x_2 = f_1(x_1, x_2, u) \\ \ddot{x}_2 = \ddot{\phi} = \frac{g}{l'} \sin x_1 - \frac{1}{Ml'} \cos x_1 u = f_2(x_1, x_2, u) \\ y = \phi = x_1 \end{cases}$$

$$\bar{x} = (0, 0), \quad u(\cdot) = 0$$

↳ equilibrio

Σ linearizzato attorno a \bar{x} per $\bar{u} = 0$: $x = \begin{bmatrix} x_1 \\ x_2 \end{bmatrix}$

$$\begin{aligned} \dot{x} = \begin{bmatrix} \dot{x}_1 \\ \dot{x}_2 \end{bmatrix} &= \begin{bmatrix} \frac{\partial f_1}{\partial x_1} & \frac{\partial f_1}{\partial x_2} \\ \frac{\partial f_2}{\partial x_1} & \frac{\partial f_2}{\partial x_2} \end{bmatrix}_{\substack{u=\bar{u} \\ x=\bar{x}}} x + \begin{bmatrix} \frac{\partial f_1}{\partial u} \\ \frac{\partial f_2}{\partial u} \end{bmatrix}_{\substack{u=\bar{u} \\ x=\bar{x}}} u \\ &= \begin{bmatrix} 0 & 1 \\ \frac{g}{l'} \cos \bar{x} + \frac{1}{Ml'} \sin \bar{x} \cdot \bar{u} & 0 \end{bmatrix} x + \begin{bmatrix} 0 \\ -\frac{1}{Ml'} \cos \bar{x} \end{bmatrix} u \\ &= \begin{bmatrix} 0 & 1 \\ g/l' & 0 \end{bmatrix} x + \begin{bmatrix} 0 \\ -\frac{1}{Ml'} \end{bmatrix} u \end{aligned}$$

$$\begin{cases} \dot{x} = \overbrace{\begin{bmatrix} 0 & 1 \\ g/l' & 0 \end{bmatrix}}^F x + \overbrace{\begin{bmatrix} 0 \\ -\frac{1}{Ml'} \end{bmatrix}}^G u \\ y = \underbrace{\begin{bmatrix} 1 & 0 \end{bmatrix}}_H x \end{cases}$$

Autovalori di F: $\Delta_F(\lambda) = \det \begin{bmatrix} \lambda & -1 \\ -g/l' & \lambda \end{bmatrix} = \lambda^2 - \frac{g}{l'} \Rightarrow \lambda_{1,2} = \pm \sqrt{\frac{g}{l'}}$

\Rightarrow c'è sempre un autovalore positivo

$\Rightarrow \bar{x}$ è instabile